

## Wochenplan 5 für Klasse 3 vom 22.02. bis 26.02.2021

Wochentag	Aufgaben	Erledigt? Hake ab!
<b>Montag</b>	<p><b>D/ Schreiben</b> 1. Station: Nomen, SB S. 128 Merksatz abschreiben, Nr. 1 – 4 lösen</p> <p><b>Ma</b> Wiederholung schriftliche Addition und Subtraktion, AB KV 83, KV 117 lösen</p> <p><b>ACHTUNG!</b> Schreibe <b>richtig untereinander!</b> Beginne immer mit dem <b>Einer!</b> <b>Rechne</b> von unten nach oben!</p>	
<b>Dienstag</b>	<p><b>D/ Schreiben</b> 2. Station: Adjektive, SB S. 129 Merksatz abschreiben, Nr. 1 – 3 lösen</p> <p><b>Ma</b> Wiederholung Addition und Subtraktion, MB S. 140 Nr. 1–6 lösen</p>	
<b>Mittwoch</b>	<p><b>D/ Schreiben</b> 3. Station: Verben, SB S. 130 Merksatz abschreiben, Nr. 1 – 4 lösen</p> <p><b>Ma</b> Multiplikation und Division mit 10 und mit 100 üben, AB KV 44 Merksatz lesen und abschreiben, Aufgaben lösen</p>	
<b>Donnerstag</b>	<p><b>D/ Schreiben</b> 4. Station: Zeitformen der Verben, SB S. 131 Merksatz abschreiben, Nr. 1 – 3 lösen</p> <p><b>Ma</b> Multiplikation und Division mit 10 und mit 100 üben, MB S. 92 Nr. 1 – 7 lösen</p>	
<b>Freitag</b>	<p><b>D/ Schreiben</b> 6. Station: Wörtliche Rede, SB S. 133 Merksatz abschreiben, Nr. 1 – 3 lösen</p> <p><b>Ma</b> Multiplikation und Division mit 10 und mit 100 üben, AH S. 44 Nr. 1 – 7 lösen</p>	
<b>Weitere Aufgaben für die Woche</b>	<p><b>Wähle den Tag selbst aus!</b></p> <p>Eng 2 AB KV 1 „Pets and foot“, KV 7 „I like pets“</p>	



## Zahlen ohne Übertrag addieren

1 Addiere die Zahlen in den Stellentafeln.

a)

H	Z	E	
2	5	2	
+	3	4	6
5	9	8	

b)

H	Z	E	
3	0	7	
+	3	5	2

c)

H	Z	E	
5	2	3	
+		7	5

d)

H	Z	E	
4	6	2	
+		2	3

e)

H	Z	E	
6	3	5	
+	1	4	4
+	2	1	0

f)

H	Z	E	
4	6	5	
+	3	2	3
+	1	0	1

g)

H	Z	E	
8	4	3	
+		5	2
+	1	0	4

h)

H	Z	E	
	2	3	
+	2	5	1
+	3	2	5

2 Trage die Aufgaben in die Stellentafeln ein und berechne das Ergebnis.

a)  $265 + 124$

H	Z	E	
2	6	5	
+			

b)  $534 + 53$

H	Z	E	
+			

c)  $47 + 602$

H	Z	E	
+			

d)  $328 + 261$

H	Z	E	
+			

e)  $212 + 416 + 371$

H	Z	E	
+			
+			

f)  $533 + 21 + 345$

H	Z	E	
+			
+			

g)  $613 + 5 + 271$

H	Z	E	
+			
+			

h)  $31 + 132 + 534$

H	Z	E	
+			
+			

3 Schreibe die Zahlen ohne Stellentafel richtig untereinander und berechne das Ergebnis.


a)  $135 + 242$

	1	3	5
+			

b)  $353 + 134$


c)  $213 + 452$


d)  $586 + 203$

## Subtrahieren in der Stellentafel üben

- 1 Trage die Aufgaben in die Stellentafeln ein und berechne die Ergebnisse.  
Kontrolliere selbst.

a)  $897 - 453$

	H	Z	E
	8	9	7
-	4	5	3
	4	4	4

b)  $685 - 342$

	H	Z	E
-			

c)  $789 - 563$

	H	Z	E
-			

d)  $497 - 285$

	H	Z	E
-			

226
444
212
343

e)  $594 - 351$

	H	Z	E
-			

f)  $976 - 543$

	H	Z	E
-			

g)  $839 - 506$

	H	Z	E
-			

h)  $865 - 321$

	H	Z	E
-			

544
433
333
243

i)  $768 - 457$

	H	Z	E
-			

k)  $489 - 258$

	H	Z	E
-			

l)  $378 - 243$

	H	Z	E
-			

m)  $994 - 163$

	H	Z	E
-			

831
311
135
231

n)  $697 - 262$

	H	Z	E
-			

o)  $759 - 347$

	H	Z	E
-			

p)  $946 - 723$

	H	Z	E
-			

r)  $675 - 342$

	H	Z	E
-			

435
412
333
223

s)  $825 - 514$

	H	Z	E
-			

t)  $468 - 315$

	H	Z	E
-			

u)  $297 - 184$

	H	Z	E
-			

v)  $569 - 347$

	H	Z	E
-			

153
222
113
311

Name: \_\_\_\_\_

Klasse: \_\_\_\_\_

Datum: \_\_\_\_\_

1) a)  $3 \cdot 10 = \underline{\quad}$       b)  $7 \cdot 100 = \underline{\quad}$   
 $50 \cdot 10 = \underline{\quad}$                        $4 \cdot 100 = \underline{\quad}$   
 $42 \cdot 10 = \underline{\quad}$                          $5 \cdot 100 = \underline{\quad}$

2) a)  $50 : 10 = \underline{\quad}$                       b)  $300 : 100 = \underline{\quad}$   
 $900 : 10 = \underline{\quad}$                                $700 : 100 = \underline{\quad}$   
 $620 : 10 = \underline{\quad}$                                $200 : 100 = \underline{\quad}$

*Merke!*

Multiplizieren mit  
 a) 10  $\rightarrow$  eine 0 anhängen  
 b) 100  $\rightarrow$  zwei 0 anhängen

Dividieren durch  
 a) 10  $\rightarrow$  eine 0 weglassen  
 b) 100  $\rightarrow$  zwei 0 weglassen

3) Anna liest jeden Tag 10 Seiten in ihrem Märchenbuch. Das Buch hat 170 Seiten. Wie viele Tage braucht Anna, um das ganze Buch zu lesen?

Aufgabe: \_\_\_\_\_

Antwort: \_\_\_\_\_

4) a)  $4 \cdot 10 = \underline{\quad}$                       b)  $10 \text{ €} \cdot 9 = \underline{\quad} \text{ €}$                       c)  $300 \text{ kg} : 10 = \underline{\quad} \text{ kg}$   
 $7 \cdot 100 = \underline{\quad}$                                $100 \text{ €} \cdot 5 = \underline{\quad} \text{ €}$                            $60 \text{ kg} : 10 = \underline{\quad} \text{ kg}$   
 $3 \cdot 100 = \underline{\quad}$                                $100 \text{ €} \cdot 8 = \underline{\quad} \text{ €}$                            $100 \text{ kg} : 10 = \underline{\quad} \text{ kg}$

5) a)  $4 \cdot \underline{\quad} = 40$                               b)  $\underline{\quad} \cdot 3 = 30$                               c)  $500 : \underline{\quad} = 5$   
 $\underline{\quad} \cdot 60 = 600$                                $7 \cdot \underline{\quad} = 700$                                $\underline{\quad} : 10 = 80$   
 $43 \cdot \underline{\quad} = 430$                                $\underline{\quad} \cdot 10 = 1000$                                $430 : \underline{\quad} = 43$

6) In einem Block sind 100 farbige Bastelbögen. Die Lehrerin kauft 3 Blöcke mit gelben und 5 Blöcke mit roten Bastelbögen. Wie viele Bastelbögen hat sie insgesamt?

Aufgaben: \_\_\_\_\_

Antwort: \_\_\_\_\_

7) a)  $7 \cdot 100 \bigcirc 10 \cdot 70$                       b)  $750 : 10 \bigcirc 500 : 100$   
 $52 \cdot 10 \bigcirc 10 \cdot 25$                                $100 : 10 \bigcirc 1000 : 100$

# Pets and food

1 Complete the sentences.

cat • dog • guinea pig • hamster • rabbit • rat

The \_\_\_\_\_ is Tom's pet.  
\_\_\_\_\_ is Katie's pet.  
\_\_\_\_\_ Amy's pet.  
\_\_\_\_\_ Ben's pet.  
\_\_\_\_\_  
\_\_\_\_\_



2a Read the sentences. Draw lines between the words and the pictures.

Animals: Rat, Dog, Guinea pig, Hamster, Cat, Rabbit.

Food items: Dog food, Peanut, Milk, Lettuce, Carrot, Apple.

Dogs eat dog food.  
Rats like peanuts.  
Cats like milk and cat food.  
Guinea pigs eat lettuce and carrots.  
Hamsters eat apples.  
Rabbits like carrots, lettuce and apples.

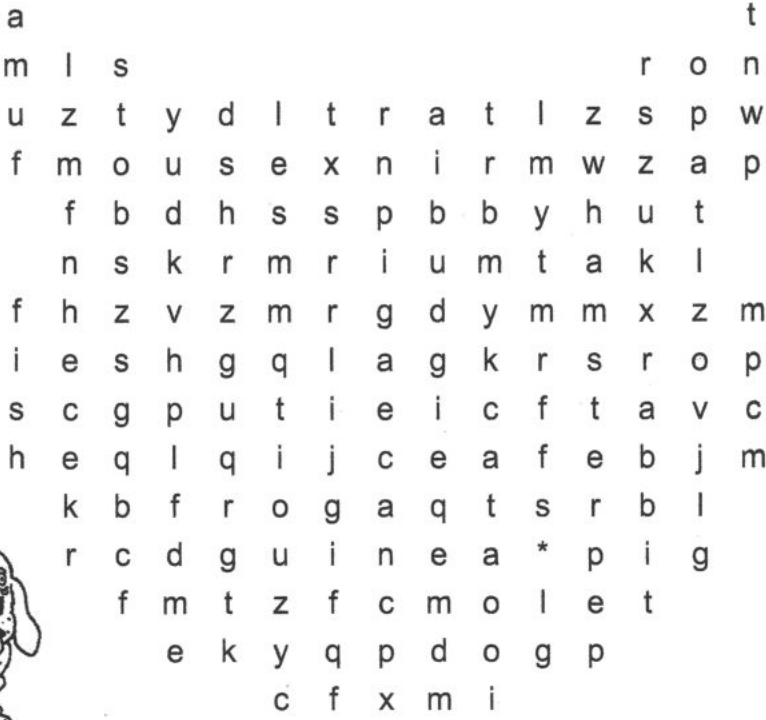










b Read the sentences to a partner.

© 2010 Cornelsen Verlag, Berlin. Alle Rechte vorbehalten.

# I like pets

## 1 Find and circle the words. Draw lines.

budgie • cat • dog • fish • frog • guinea pig • hamster • mouse • rabbit • rat

## 2a Read the sentences.

My favourite pet is my dog, Barker.  
 Barker is 5. Barker is a big dog. He's black and white.  
 Barker eats dog food and sandwiches.  
 He likes playing in the garden.  
 I love Barker very much.



## b Right (☑) or wrong (☒)? Tick or cross.

The dog's name is Barker.

Barker is 5.

Barker is brown.

Barker eats cat food.

Barker likes playing in the garden.

Barker is a hamster.