

Name:

Klasse:




Datum:

**1** Bilde Aufgabenfamilien.

a) 16 19 35

b) 23 61 38

c) 73 27 46



**2** Rechne. Färbe die Ergebnisfelder im Bild mit den richtigen Farben.

	blau	gelb	grün	rot
$29 + 29 =$	<input type="text"/>	$94 -$ <input type="text"/> $= 44$	$81 - 38 =$ <input type="text"/>	$42 +$ <input type="text"/> $= 84$
$15 + 15 =$	<input type="text"/>	$96 -$ <input type="text"/> $= 36$	$45 - 28 =$ <input type="text"/>	$36 +$ <input type="text"/> $= 72$
$48 + 48 =$	<input type="text"/>	$57 -$ <input type="text"/> $= 17$	$63 - 37 =$ <input type="text"/>	$28 +$ <input type="text"/> $= 56$
$39 + 39 =$	<input type="text"/>	schwarz	$59 - 26 =$ <input type="text"/>	$47 +$ <input type="text"/> $= 94$
$26 + 26 =$	<input type="text"/>	$64 -$ <input type="text"/> $= 49$	$42 - 36 =$ <input type="text"/>	$25 +$ <input type="text"/> $= 52$
$38 + 38 =$	<input type="text"/>	$76 -$ <input type="text"/> $= 28$	$94 - 57 =$ <input type="text"/>	$47 +$ <input type="text"/> $= 82$
$27 + 27 =$	<input type="text"/>	$53 -$ <input type="text"/> $= 19$	$76 - 58 =$ <input type="text"/>	$26 +$ <input type="text"/> $= 95$
$45 + 45 =$	<input type="text"/>	$60 -$ <input type="text"/> $= 21$	$75 - 16 =$ <input type="text"/>	$44 +$ <input type="text"/> $= 88$

