

Uhrzeiten ablesen und einstellen

1 Gib jeweils beide Uhrzeiten an!


a)




_____ Uhr
_____ Uhr



_____ Uhr
_____ Uhr



_____ Uhr
_____ Uhr



_____ Uhr
_____ Uhr

b)




_____ Uhr
_____ Uhr



_____ Uhr
_____ Uhr




_____ Uhr
_____ Uhr



_____ Uhr
_____ Uhr


2 Zeichne die Zeiger ein!




10:50 Uhr



5:05 Uhr



1:27 Uhr




8:13 Uhr


3 a) Zeichne die Zeiger ein!




23:40 Uhr



14:15 Uhr



16:08 Uhr



20:33 Uhr

b) Welche Zeit zeigen die Uhren jeweils 10 Minuten später an?

_____ Uhr _____ Uhr _____ Uhr _____ Uhr